







--

**Всероссийская олимпиада школьников по ОБЗР, 2025-2026 учебный год**  
**Школьный этап. 7 класс**  
**Теоретический тур в тестах. (Максимальное количество баллов – 50)**







Выберите только один ответ. Выбранный вариант ответа обведите кружком. За правильный ответ начисляется **2 балла**. Исправления не допускаются! Максимум - 20 баллов.

№ п/п	Вопросы и варианты ответов	Кол-во баллов
1.	<p><b>Какая погода характерна в зоне действия циклона:</b></p> <p><u>А) ветреная, пасмурная, с выпадением осадков</u></p> <p>Б) малооблачная, без осадков, возможны небольшие ветра</p> <p>В) циклоны не влияют на характер погоды</p>	
2.	<p><b>День спасателя Российской Федерации отмечается:</b></p> <p>А) 23 февраля      Б) 30 апреля      В) 4 октября      <u>Г) 27 декабря</u></p>	
3.	<p><b>Горная болезнь может развиваться у человека в результате:</b></p> <p><u>А) кислородного голодания</u>      Б) солнечной радиации</p> <p>В) попадания в организм бактерий, содержащихся в горном воздухе</p>	
4.	<p><b>На какой картинке изображен катамаран?</b></p> <div style="display: flex; justify-content: space-around; align-items: center;"> <div style="text-align: center;">  <p>А)</p> </div> <div style="text-align: center;">  <p><u>Б)</u></p> </div> <div style="text-align: center;">  <p>В)</p> </div> </div>	
5.	<p><b>Обеззараживание воды в полевых условиях осуществляется:</b></p> <p>А) фильтрованием      Б) отстаиванием      <u>В) кипячением</u></p>	
6.	<p><b>Какая повязка используется для остановки кровотечения?</b></p> <p>А) укрепляющая      Б) иммобилизирующая      <u>В) давящая</u>      Г) герметизирующая</p>	
7.	<p><b>Оказание первой помощи необходимо начинать с</b></p> <p>А) вызова скорой медицинской помощи</p> <p>Б) определения признаков жизни у пострадавшего</p> <p><u>В) оценки обстановки и обеспечения безопасных условий для её оказания</u></p> <p>Г) выяснения обстоятельств травмы</p>	
8.	<p><b>На какой картинке изображен «СТОП – КРАН»?</b></p> <div style="display: flex; justify-content: space-around; align-items: center;"> <div style="text-align: center;">  <p>А)</p> </div> <div style="text-align: center;">  <p>Б)</p> </div> <div style="text-align: center;">  <p><u>В)</u></p> </div> </div>	
9.	<p><b>При аварийной посадке самолета надо:</b></p> <p>А) надеть спасательный жилет, руками упереться в спинку переднего сиденья, а голову зажать между коленями</p> <p>Б) надеть кислородную маску, руки сложить на животе, согнуться и поджать ноги</p> <p><u>В) согнуться, наклонить голову как можно ниже и прикрыть руками, упереться ногами в спинку переднего сиденья</u></p>	
10.	<p><b>Вы вынуждены покинуть тонущее в море судно. Ваши действия:</b></p> <p>А) спуститься в свою каюту и ждать прихода аварийной команды корабля;</p> <p>Б) выяснить у капитана причину происшедшего, надеть спасательный жилет, прыгнуть за борт и плыть к ближайшей лодке;</p> <p><u>В) одеться, положить деньги и документы в полиэтиленовый пакет и убрать его в карман, надеть спасательный жилет, выполнять все указания членов экипажа корабля, спуститься в спасательный плот.</u></p>	

### Задания с выбором нескольких вариантов ответов.






Выбранный вариант ответа обведите кружком

За каждый правильный ответ - **2 балла**, если среди выбранных ответов указан хотя бы один неправильный – за этот вопрос выставляется **0 баллов**.

№ п/п	Вопросы и варианты ответов	Максимальный балл	Фактический балл
1	Из каких знаков можно составить фразу: «Нужны вода, пища, карта и компас» А)  Б)  В)  Г)  Д)  Е) 	4	
2	Укажите номера для вызова скорой медицинской помощи с сотового телефона А) 03 Б) 102 В) <u>112</u> Г) <u>103</u> Д) 04	4	
3	Какие типы костров можно использовать, как ночные? А) «Шалаш» Б) <u>«Нодья»</u> В) <u>«Камин»</u> Г) «Колодец» Д) <u>«Звезда»</u>	6	
4	Какие насекомые могут быть переносчиками инфекционных болезней? А) <u>комары</u> Б) пчелы В) <u>клещи</u> Г) шмели Д) осы Е) <u>мухи</u>	6	
5	Какие уровни террористической опасности существуют? А) повседневный («белый») Б) <u>повышенный ("синий")</u> ; В) <u>высокий ("желтый")</u> ; Г) <u>критический ("красный")</u> . Д) особо высокий («черный»)	6	
6	Какие признаки характерны для ожога второй степени? А) <u>отёк, покраснение</u> Б) <u>наличие пузырей с прозрачным содержимым</u> В) отсутствие чувствительности в месте повреждения Г) обугливание кожи и подкожной клетчатки Д) обугливание мягких тканей и частично костей	4	
	<b><u>максимальное количество баллов – 30</u></b>		

### Теоретический тур в вопросах (максимальное количество баллов – 20)

**Задание 1** Установите соответствие между изображением дорожного знака и его наименованием. Ответ выберите из предложенных вариантов и запишите его в таблицу в виде буквенного обозначения.

Дорожный знак					
Значение дорожного знака	Д	Г	В	Ж	З

### Значение дорожного знака (возможные варианты)

- А) «Стоянка велосипедов запрещена»
- Б) «Стоянка запрещена»
- В) «Велосипедная дорожка или полоса»
- Г) «Движение на велосипедах запрещено»
- Д) «Движение запрещено»
- Е) «Конец велосипедной дорожки или полосы»
- Ж) «Въезд запрещён»
- З) «Место отдыха»
- И) «Кемпинг»
- К) «Остановка запрещена»

**Оценочные баллы: максимальный – 10 баллов, фактический \_\_\_\_\_**

**Задание 2** В каждой строке впишите оболочку Земли (там, где это необходимо) в которой возникает определенная группа природных явлений и приведите хотя бы один пример природных явлений, соответствующий указанной группе.

Оболочка Земли	Группа природных явлений	Примеры
Литосфера	Геофизические	Землетрясения, извержения вулканов
Литосфера	Геологические	Оползни, обвалы, лавины, сели
Атмосфера	Метеорологические	Бури, ураганы, смерчи
Гидросфера	Гидрологические	Наводнения, паводки, заторы
Гидросфера	Морские гидрологические	Цунами, дрейф льдов
Биосфера	Природные	Природные пожары
Биосфера	Биолого-социальные	эпидемии, эпизоотии, эпифитотии
<i>Эта ячейка не заполняется</i>	Космические	Падение космических тел на Землю

За каждую правильно заполненную строку выставляется 1 балл, если задание выполнено без ошибок, дополнительно начисляется 2 балла

**Оценочные баллы: максимальный – 10 баллов, фактический \_\_\_\_\_ баллов**

### **Практический тур (максимальное количество баллов – 30)**

**Задание №1** Разработайте памятку из пяти пунктов по подготовке к эвакуации.

**Вариант ответа:**

1. Документы, ценности и деньги следует хранить в определённом постоянном месте.
2. Личные вещи, средства индивидуальной защиты, одежду и белье для длительного пребывания в безопасной зоне следует хранить в рюкзаке (сумке).
3. Необходимо иметь готовый пакет с продуктами на 2–3 суток.
4. Вес всех вещей должен быть не более того, что может унести человек.
5. Все вещи должны размещаться в доступном месте.

**Оценочные баллы: максимальный – 10 баллов, фактический \_\_\_\_\_ баллов**

- за каждый правильно указанный пункт начисляется по **2 балла** (допускаются иные формулировки пунктов и действия, не искажающие смысла задания);

**Задание №2** Во время отдыха на озере, на которое вы приехали на своем автомобиле вы определили, что на Вас надвигается гроза.

**Запишите по каким признакам можно определить приближение грозы и что вы должны сделать, чтобы снизить риск для своей жизни и здоровья**

**Признаки приближения грозы**

- бурное и быстрое развитие во второй половине дня мощных, темных кучево-дождевых облаков в виде горных хребтов с вершинами-наковальнями;
- резкое понижение температуры воздуха;
- изнурительная духота, безветрие;
- затишье в природе, появления на небе пелены;
- хорошая и отчетливая слышимость отдаленных звуков;
- приближающиеся раскаты грома;
- яркие вспышки молний.

**Ваши действия по обеспечению личной безопасности**

- во время грозы подальше держаться от электропроводки, антенн, окон, дверей и всего остального, связанного с внешней средой, не располагаться у стены, рядом с которой растет высокое дерево;
- не пользоваться электроприборами и телефоном (особенно важно для сельской местности);
- если нет возможности укрыться в здании, не надо прятаться в небольших сараях, под одиночными деревьями;
- не находиться на возвышенностях и открытых незащищенных местах, вблизи металлических или сетчатых оград, крупных металлических объектов, влажных стен, заземления молниеотвода;
- при отсутствии укрытия лечь на землю, при этом предпочтение следует отдать сухому песчаному грунту, удаленному от водоема;
- если гроза застала вас в лесу, необходимо укрыться на низкорослом участке. нельзя укрываться под высокими деревьями, особенно соснами, дубами, тополями. лучше находиться на расстоянии 30 м от отдельного высокого дерева. обратите внимание - нет ли рядом деревьев, ранее пораженных грозой, расщепленных. лучше держаться в таком случае подальше от этого места. обилие пораженных молнией деревьев свидетельствует, что грунт на данном участке имеет высокую электропроводность, и удар молнии в этот участок местности весьма вероятен;
- во время грозы нельзя находиться на воде и у воды — купаться, ловить рыбу. необходимо подальше отойти от берега;
- если гроза застала вас в автомобиле, не нужно его покидать, необходимо закрыть окна и опустить автомобильную антенну. Двигаться во время грозы на автомобиле не рекомендуется, т.к. гроза, как правило, сопровождается ливнем, ухудшающим видимость на дороге, а вспышка молнии может ослепить и вызвать испуг и, как следствие, аварию;
- Нельзя укрываться во время грозы возле одиноко стоящих деревьев или других предметов. От них нужно держаться на расстоянии, не менее 10 метров.
- Не следует оставаться на открытых холмах и равнинах. Гораздо безопаснее укрыться в углублении на склоне холма, за большим камнем или в лесу, особенно среди невысоких густых деревьев. · Чаще молния бьет по высоким деревьям, зачастую растущим на открытой местности.
- Как правило, не поражаются молнией береза или клен.

*Оценочные баллы: **максимальный** – 20 баллов, **по 2 балла** за каждый правильный ответ, **но не более 10 баллов** за каждый раздел в отдельности.*

**Максимальный балл за работу – 100.**